



## AĞAÇ EVDE DOSTLUK

Bir gün Meryem, İrem, Ebrar ve Sevda okuldan sonra parka gittiler. Parkın içinde büyük bir ağaç vardı. Bu ağacın dallarına tahtalar çakılmış, küçük bir ağaç ev yapılmıştı. Dört arkadaş heyecanla birbirine baktı. Ebrar, "Haydi ağaç eve çıkalım." dedi. Meryem hemen merdivene yöneldi. Ama aynı anda İrem de çıkmak istedi. Sevda ise aşağıda kalıp çantaları tutuyordu. Meryem ve İrem aynı anda çıkınca merdivende sıkıştılar. Ebrar gülererek, "Durun, düşeceksiniz. Sırayla çıkalım." dedi. Sevda da, "Evet, herkes birbirini beklesin o zaman daha güvenli olur." diye ekledi. Dört arkadaş sırayla ağaç eve çıktı. İçerisi çok güzeldi. Küçük bir masa, birkaç minder ve renkli boyalar vardı. Meryem pencereden dışarı bakıp, "Buradan her şey çok güzel görünüyor." dedi. İrem, "Hadi resim yapalım." diye önerdi. Ebrar kâğıtları getirdi, Sevda da kalemleri paylaştırdı. Birlikte bir resim yaptılar. Resimde dört arkadaş el eleydi. Resmin altına İrem "Gerçek arkadaşlık, paylaşmak ve birlikte gülmektir." yazdı. Akşam olunca eşyaları topladılar, sırayla aşağı indiler. Sevda gülümseyerek, "Bugün birbirimizi dinlemeyi başardık." dedi. Meryem, "Evet, kavga etmeden daha çok eğlendik." diye ekledi. O günden sonra ağaç ev, onların en sevdiği yer oldu. Çünkü orada sadece oyun değil, dostluk da büyüyordu.

Aşağıdaki çoktan seçmeli soruları metne göre cevaplayalım.

1. Meryem, İrem, Ebrar ve Sevda nereye gitmişlerdi?

- A) Okula
- B) Parka
- C) Kütüphaneye

2. Arkadaşlar neden merdivende sıkıştılar?

- A) Aynı anda çıkmak istediler.
- B) Merdiven kırıldı.
- C) Ağaç eve çıkmaktan korktular.

3. Hikayenin sonunda çocuklar ne öğrendiler?

- A) Kavga etmenin eğlenceli olduğunu.
- B) Birbirini dinlemenin ve paylaşmanın önemli olduğunu.
- C) Tek başına oynamanın daha iyi olduğunu.



Aşağıdaki paraların karşısına değerlerini yazınız.



Toplam

..... TL



Toplam

..... TL



Toplam

..... TL



Toplam










..... TL



Toplam

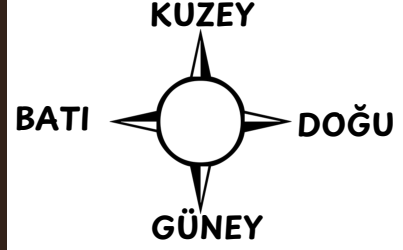
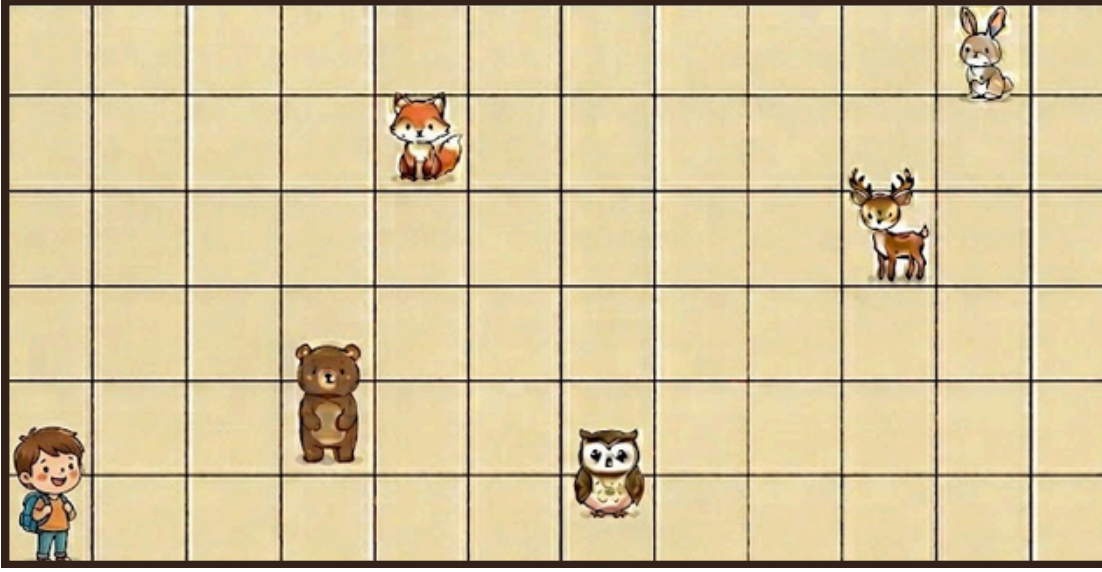
..... TL

Aşağıdaki eşyaları satın almak için tablodaki uygun olan paralardan kaç adet kullanmamız gerektiğini yazalım.

					
 SULU BOYA SETİ 115 TL					
 MİNİ BANT MAKİNESİ 49 TL					
 RENKLİ ÇİZİM KALEM SETİ 98 TL					
 SANATÇI FIRÇA SETİ 85 TL					
 ERGO ÇOKLU RENK KALEMİ 67 TL					



Aşağıdaki haritadan ve yönergeden yararlanarak boşluklara uygun hayvan isimlerini yazalım.



### GİZEMLİ DOĞA YOLCULUĞU: KİMİ BULDUN?

#### Rota 1:

- Bulduğun kutucuktan 4 birim Kuzey yönüne git.
- Ardından 4 birim Doğu yönüne ilerle.
- Hangi hayvana ulaştın? .....

#### Rota 2:

- Bulduğun kutucuktan 2 birim Kuzey yönüne git.
- Ardından 9 birim Doğu yönüne ilerle.
- Ardından 1 birim Kuzey yönüne ilerle.
- Hangi hayvana ulaştın? .....

#### Rota 3:

- Bulduğun kutucuktan 2 birim Kuzey yönüne git.
- Ardından 5 birim Doğu yönüne ilerle.
- Ardından 1 birim Kuzey yönüne ilerle.
- Ardından 2 birim Batı yönüne ilerle.
- Hangi hayvana ulaştın? .....

#### Rota 4:

- Bulduğun kutucuktan 3 birim Kuzey yönüne git.
- Ardından 6 birim Doğu yönüne ilerle.
- Ardından 3 birim Güney yönüne ilerle.
- Hangi hayvana ulaştın? .....

#### Rota 5:

- Bulduğun kutucuktan 5 birim Kuzey yönüne git.
- Ardından 10 birim Doğu yönüne ilerle.
- Hangi hayvana ulaştın? .....