



- Aşağıdaki problemleri çözelim.

1-Kumbaramda 2 tane 20 TL, 1 tane 10 TL var. Kumbaramda toplam kaç TL birikmiştir?

Çözüm:

2- Tanesi 5 TL olan kalemlerden 4 tane alırsam satıcıya kaç TL ödemem gerekir?

Çözüm:

3-Cebimde 75 TL vardı. 25 TL'ye bir hikaye kitabı aldım. Geriye kaç TL param kaldı mı?

Çözüm:

4-Tanesi 3 TL olan simitlerden 5 tane aldım. Satıcıya 20 TL veririm kaç TL para üstü alırım?

Çözüm:

5- Fiyatı 45 TL olan bir oyuncak ayı için kumbaramdan 2 tane 20 TL çıkardım. Oyuncak alabilmem için kaç TL daha eklemem gerekir?

Çözüm:

6- Tanesi 10 TL olan kalemtraşlardan 3 tane alırsam satıcıya kaç TL öderim?

Çözüm:

7- 80 TL param vardı. 15 TL'sini harcadım. Geriye kaç TL param kaldı mı?

Çözüm:

8- Bir ekmek 8 TL'dir. 2 ekmek satan satıcıya 20 TL veririm kaç TL para üstü alırım?

Çözüm:



- Aşağıdaki problemleri çözelim.



1- Selin tanesi 20 TL olan hikaye kitaplarından 2 adet yer alıyor. Selin satıcıya 50 TL verirse kaç TL para üstü alır?

Çözüm:



3- Ayşe'nin kumbarasında 3 tane 20 TL ve 2 tane 5 TL vardır. Ayşe'nin toplam kaç TL'si vardır?

Çözüm:




5- Zeynep 45 TL'ye bir bebek almak istiyor. Kumbarasında 27 TL'si olan Zeynep'in kaç TL'ye daha ihtiyacı vardır?

Çözüm:




7- Fiyatı 85 TL olan bir okul çantasını almak isteyen Ömer'in 15 TL'si eksiktir. Ömer'in kaç TL'si vardır?

Çözüm:




2- Melek annesine 80 TL'lik bir hediye almak için para biriktiriyor. Babası 30 TL , ablası ise 20 TL verdi. Melek'in hediyesi için kaç TL daha biriktirmesi gerekir?

Çözüm:




4- Can, tanesi 6 TL olan simitlerden 4 tane alıyor. Satıcıya 50 TL verirse kaç TL para üstü alınmalı mı?

Çözüm:



6- Deniz, günde 5 TL biriktiriyor. Deniz 10 günün sonunda toplam kaç TL biriktirmiş olur?

Çözüm:




8- Efe tanesi 10 TL olan kalemlerden 3 adet, bir tanesi 5 TL olan silgilerden 1 adet alıyor. Toplam kaç TL öder?

Çözüm:




- Aşağıdaki problemleri çözelim.


1- Elif tanesi 4 TL olan tokalardan 3 tane almak istiyor. Elif'in satıcıya toplam kaç TL ödemesi gerekir?




2-Mert kantinden 12 TL'ye bir tost ve 5 TL'ye bir ayran aldı. Mert toplam kaç TL harcamıştır?




3- Zeynep kumbarasına her gün 2 TL atıyor. Zeynep 1 hafta (7 gün) sonunda kumbarasında kaç TL biriktirmiş olur?




4- Arda'nın 50 TL'si vardı. 15 TL'ye bir boya kalemi seti aldı. Arda'nın geriye kaç TL'si kaldı?




5- Kerem 65 TL değerindeki futbol topunu almak istiyor. Cebinde 40 TL'si olan Kerem'in, topu alabilmek için kaç TL'ye daha ihtiyacı var?



6- Duru tanesi 7 TL olan dondurmалardan iki tane alıp satıcıya 20 TL veriyor. Duru kaç TL para üstü alır?



7- Ömer'in cebinde 6 tane 1 TL ve 4 tane 50 kuruş vardır. Ömer'in toplam kaç TL'si vardır?





- Aşağıdaki problemleri çözelim.

1- Ceren'in 100 TL'si vardı. 40 TL'ye bir atkı, 20 TL'ye bir bere aldı. Ceren'in geriye kaç TL'si kaldı?

2- Bir dondurma 12 TL'dir. İki kardeş birer dondurma alıp satıcıya 50 TL verirse satıcı kaç TL para üstü verir?

3- Kerem'in cebinde 2 tane 20 TL ve 3 tane 10 TL vardır. Kerem'in toplam kaç TL'si vardır?

4- Defne pazardan kilosu 10 TL olan elmalardan 3 kilo aldı. Satıcıya 50 TL verirse kaç TL para üstü alır?

5- Nil'in 90 TL'si vardı. Arkadaşına hediye almak için 35 TL harcadı. Nil'in kaç TL'si kaldı?

6- Yaman, fiyatı 72 TL olan bir kulaklığı almak istiyor. Babası 50 TL verirse Yaman'ın kaç TL daha biriktirmesi gerekir?

7- Bir kutu süt 15 TL'dir. 2 kutu süt satan satıcıya 40 TL veren biri kaç TL para üstü alır?