




Aşağıdaki paraların karşısına değerlerini yazınız.



Toplam

..... TL



Toplam

..... TL



Toplam

..... TL



Toplam

..... TL



Toplam

..... TL



Aşağıdaki cüzdanları eşyalar ile eşleştirelim.





Aşağıdaki paraların karşısına değerlerini yazınız.



Toplam

..... TL



Toplam

..... TL



Toplam

..... TL



Toplam

..... TL











Toplam

..... TL



Aşağıdaki eşyaları satın almak için tablodaki uygun olan paralardan kaç adet kullanmamız gerektiğini yazalım.

					
 <p>SULU BOYA SETİ 95 TL</p>					
 <p>DEKORATİF BANT 28 TL</p>					
 <p>MINİ BANT MAKİNESİ 42 TL</p>					
 <p>EL SANATLARI MAKASI 68 TL</p>					
 <p>PASTEL İNCE UÇLU KALEM SETİ 81 TL</p>					